

平成27年度 萩ものしり博士検定

検定時間 ◆ 45分

※^{せんせい}先生の^{しじ}指示があるまで^{ひら}開かないでください

★ ちゅういじこう 注意事項 ★

- ^{せいかい}正解と^{おも}思う^{ばんごう}番号1つにマルをつけてください。はっきりとわかるように^{すうじ}数字をマルで^{かこ}囲んでください。2つ以上^{いじょう}マルをつけると^{ふせいかい}不正解となります。

かいとうれい
解答例)




^{もんだいばんごう} 問題番号	^{かいとうばんごう} 解答番号		
1	①	2	3
2	1	②	3
3	1	2	③

I 現代の萩市（自然・生活・文化）

- 1) 萩沖に流れている海流はどれでしょう？
- ① 対馬暖流 ② リマン寒流 ③ 親潮（千島海流）
- 2) 標高が789mあり、萩市で一番高い山はどれでしょう？
- ① 笠山 ② 男岳 ③ 指月山
- 3) 川上と山口市阿東にまたがり、1923（大正12）年に国の名勝となった山口県を代表する溪谷はどれでしょう？
- ① 龍鱗郷 ② 蛇淵 ③ 長門峡
- 4) 国の天然記念物に指定されており、池なのにマダイやスズキ、エイなど海の魚がすんでいる池はどれでしょう？
- ① 水練池 ② 明神池 ③ 片くの池
- 5) むつみにある昆虫王国の「昆虫の森」は、カブトムシやクワガタムシが生息する広大な森を無料開放し、いろいろな昆虫採取が楽しめます。何の木の森でしょう？
- ① ヒノキ ② クヌギ ③ マツ
- 6) 山口県の天然記念物に指定されており、花は純白色でがくは緑色、遠くから見ると梨の花のように見える学術的に貴重な樹木はどれでしょう？
- ① 辻山のシダレザクラ ② 三見吉広のバクチノキ
③ 志都岐山神社のミドリヨシノ

- 7) 萩の「市の花」は萩と椿ですが、「市の生物」はどれでしょう？
- ①ゴマダラカミキリ ②ミカドアゲハ ③ホタル
- 8) 春の訪れとともに産卵のために川に上ってきたところを獲るのが、萩の早春の風物詩といわれている魚はなんでしょう？
- ①シロウオ ②瀬つきアジ ③アマダイ
- 9) 萩焼で、使えば使うほど細かいひび割れに茶がしみ込み、しだいに色が変化していくことをなんと呼ぶでしょう？
- ①一楽二萩三唐津 ②七化け ③大道士
- 10) 結婚式や葬式の時によく出される昆布で出汁を取った萩の郷土料理はどれでしょう？
- ①のっぺい ②おどり食い ③いとこ煮
- 11) 6月に玉江浦厳島神社大祭の奉納行事として行われる船競漕はなんと呼ばれるでしょう？
- ①御備の行列 ②御船 ③おしくらごう
- 12) 毎年4月29日に川上で行われ、大うなぎの化け物を退治したことが由来となっている祭りはどれでしょう？
- ①天狗拍子 ②中ノ原的まつり ③巫女の舞
- 13) 大韓民国の都市で、萩市との距離が大韓民国と日本の都市の間で最も近いと理由から姉妹都市の盟約を結んだ都市はどこでしょう？
- ①徳津面 ②蔚山広域市 ③ユーリンゲン・ビルゲンドルフ

Ⅱ 萩の歴史 (古代～昭和)

- 14) 萩で最古の遺物といわれる縄文土器の破片は、どこで発見されたでしょう？
- ①見島 ②大井 ③霧口
- 15) 萩に伝えられる「白牛伝説」は、どの歴史的事実に関する伝説でしょう？
- ①東大寺創建 ②毛利輝元の家臣の死 ③萩城の築城
- 16) 室町時代の終わり頃、大内義隆がある寺に出した文書に初めて「萩」という地名が出てくるといわれていますが、その寺とはどれでしょう？
- ①常念寺 ②善福寺 ③端坊
- 17) 萩に城を造り、萩藩の開祖と呼ばれているのは誰でしょう？
- ①毛利元就 ②毛利敬親 ③毛利輝元
- 18) 萩藩主毛利本家の家紋はどれでしょう？
- ①  ②  ③ 
- 19) 萩藩5代藩主毛利吉元が1719（享保4）年に創立した藩校はどれでしょう？
- ①育英館 ②好生館 ③明倫館
- 20) 江戸時代に城下町の中心に置かれ、防長両国の一里塚の基点であった場所はどこでしょう？
- ①駕籠建場 ②大木戸 ③唐樋札場

21) 江戸時代、身分の高い家臣の屋敷が建ち並んでいた堀内で、参勤交代の時に殿様が通った道はどれでしょう？

① 本町

② 糸鬢町

③ 浜町

22) 江戸時代に瓦町に設けられた奉行所の名称はなんでしょう？

① 御客屋

② 勘場

③ 口屋

23) 堀内の鍵曲の近くにある萩藩寄組士（上級の武士）の屋敷で、国の重要文化財に指定されているのはどれでしょう？

① 口羽家住宅

② 旧湯川家屋敷

③ 旧久保田家住宅

24) 13代藩主 毛利 敬親の信任を得て、村田 清風が行った財政の再建や人材の登用、軍備の充実などの改革はどれでしょう？

① 宝暦の改革

② 安政の改革

③ 天保の改革

25) 吉田 松陰が吉田家の家職兵学師範を受け継ぐことになり、その兵学師範としての松陰の教育を主に担当したのは誰でしょう？

① 玉木 文之進

② 杉 百合之助

③ 杉 梅太郎

26) 吉田 松陰が投獄された士分（武士の身分）の者を収容した萩の牢獄はどれでしょう？

① 岩倉獄

② 野山獄

③ 伝馬町獄

27) 吉田 松陰が海外への渡航を計画したのは、誰の影響が大きかったですか？

① 来原 良蔵

② 月性

③ 佐久間 象山

- 28) 高杉 晋作が身分に関係なく志がある者で組織した軍隊の名前はどれでしょう？
- ①郷友隊 ②奇兵隊 ③市勇隊
- 29) 攘夷決行を唱え、1863（文久3）年の政治上の変動で公武合体派から京都を追放された長州藩が、京都での勢力を取り戻すために、薩摩藩や会津藩と戦ったことをなんと呼ぶでしょう？
- ①池田屋事件 ②禁門の変 ③生野の変
- 30) 高杉 晋作とともに松下村塾の「双壁」と称され（呼ばれ）ましたが、1864（元治元）年に禁門の変で自刃したのは誰でしょう？
- ①久坂 玄瑞 ②吉田 稔麿 ③松浦 松洞
- 31) 松下村塾出身で初代の内閣総理大臣になったのは誰でしょう？
- ①山県 有朋 ②田中 義一 ③伊藤 博文
- 32) 吉田 松陰の妹・寿と結婚し、初代の群馬県令（県知事）となったのは誰でしょう？
- ①井上 馨 ②楫取 素彦 ③伊藤 博文
- 33) 1863（文久3）年に外国船の攻撃に備え、武士の妻や奥女中までが駆けつけ菊ヶ浜に土を積み上げて築いた土塁はなんと呼ばれたでしょう？
- ①女台場 ②羽賀台 ③平蔵台
- 34) 幕末の頃、長州砲（長州藩の大砲）を作っていた場所はどこでしょう？
- ①郡司鑄造所 ②反射炉 ③軍艦造船所

35) 四境戦争（第2次長州戦争）が始まる直前に、長州藩が36万部も印刷して配布した冊子（書物）の名前はなんでしょう？

① 長防臣民合議書

② 武教全書

③ 幽囚録

36) 1863（文久3）年に下関で外国艦船との攘夷戦を行っていた長州藩が密かにイギリスに派遣した5人の若者（長州ファイブ）の一人で、鉄道の父（鉄道庁長官）といわれているのは誰でしょう？

① 井上 勝

② 遠藤 謹助

③ 山尾 庸三

37) 1871（明治4）年の廃藩置県により、これまでの家禄が無くなり、生計の道を絶たれた士族（旧武士階級）を助けるために、夏みかんの栽培をするように奨めたのは誰でしょう？

① 藤田 伝三郎

② 久原 房之助

③ 小幡 高政

38) 1884（明治17）年に国の役人としてヨーロッパに派遣され、フランスのナンシーで水墨画や和風の繊細な美術様式を紹介し、アール・ヌーヴォー・ナンシー派のエミール・ガレらに大きな影響を与えたのは誰でしょう？

① 高島 北海

② 片山 東熊

③ 渡辺 蒿蔵

39) 明治から昭和にかけて活躍した日本画家で、南画の表現に新たな世界を開拓し、南画界の重鎮といわれ、1958（昭和33）年に文化勲章を受章したのは誰でしょう？

① 五島 清太郎

② 井上 剣花坊

③ 松林 桂月

Ⅲ とくしよく ちいき 特色ある地域

- 40) きたなが と かいがんこくていこうえん 北長門海岸国定公園に属し、ぞく ライオン岩やいわ とおりが はな だいひょう 通ヶ鼻に代表されるき がんぜっけい ほう 奇岩絶景の宝庫と呼ばれるこ よ 相島あいしまの代表的なだいひょうてき 農産物で、のうさんぶつ 山口県やまぐちけんで生産額が最も多いものはどれでしょう？
- ① スイカ ② さつまいも ③ ブロッコリー
- 41) けんえい 県営ダムでは日本最大級のにほんさいだいきゆう 阿武川ダムあぶがわがある地域ちいきはどこでしょう？
- ① 見島 ② 川上 ③ 大島
- 42) た まがわ けんない 田万川が県内で最大産地のさいだいさんち 果物はどれでしょう？
- ① 梨 ② ブドウ ③ 桃
- 43) ろっかくけい 六角形をしたお堂どうがあるた まがわ えさき てら 田万川江崎の寺はどれでしょう？
- ① 南明寺 ② 西堂寺 ③ 長寿寺
- 44) もうり てるもと 毛利輝元に従いしたが 家臣かしんと共にとも 石見国のいわみのくに 益田ますだから長門国のながのくに 須佐すさの地ちに移り住んだのは誰だれでしょう？
- ① 益田 元祥 ② 益田 元道 ③ 益田 親施
- 45) す さ 須佐のホルンフェルスは、くろ しろ 黒と白のもよう しま模様をなす雄大な地層で、ゆうだい ち そう 地質学的にもき ちよう 貴重なものですが、つぎ 次のどの百選ひゃくせんに選ばれているでしょう？
- ① 農村景観100選 ② かおり風景100選
③ 21世紀に残す日本の風景100選

46) むつみが阿東町（現山口市阿東）と共同で新しいブランドとして売り出した野菜はどれでしょう？

①大根

②トマト

③レタス

47) 江戸時代に萩城と防府の三田尻の御船倉とを結ぶ毛利氏の参勤交代の道として整備された旭を縦断する道をなんと呼ぶでしょう？

①赤間関街道

②萩往還

③石州街道

48) 萩の中山間地を中心に使われている瓦はどれでしょう？

①黒瓦

②石州瓦

③鬼瓦

49) 室町時代、福栄には大内氏の滅亡により多くの人々が移り住んだと伝えられています、どのような人々でしょう？

①製鉄の技術者

②萩焼職人

③キリスト教の信者

50) 福栄の黒川にあり、萩藩主が鷹狩を行うときに休憩所として使っていた屋敷はどれでしょう？

①森田家住宅

②菊屋家住宅

③熊谷家住宅

平成27年度 萩ものしり博士検定(解答用紙)

がっこうめい 学校名	がくねん くみ 学年・組	なまえ 名前
小学校	年 組	

子ども検定

せいがい おも ばんごう
正解と思う番号1つにマルをつけてください。

もんだいばんごう 問題番号	かいとうばんごう 解答番号		
1	1	2	3
2	1	2	3
3	1	2	3
4	1	2	3
5	1	2	3
6	1	2	3
7	1	2	3
8	1	2	3
9	1	2	3
10	1	2	3
11	1	2	3
12	1	2	3
13	1	2	3
14	1	2	3
15	1	2	3
16	1	2	3
17	1	2	3
18	1	2	3
19	1	2	3
20	1	2	3
21	1	2	3
22	1	2	3
23	1	2	3
24	1	2	3
25	1	2	3
①小計			

もんだいばんごう 問題番号	かいとうばんごう 解答番号		
26	1	2	3
27	1	2	3
28	1	2	3
29	1	2	3
30	1	2	3
31	1	2	3
32	1	2	3
33	1	2	3
34	1	2	3
35	1	2	3
36	1	2	3
37	1	2	3
38	1	2	3
39	1	2	3
40	1	2	3
41	1	2	3
42	1	2	3
43	1	2	3
44	1	2	3
45	1	2	3
46	1	2	3
47	1	2	3
48	1	2	3
49	1	2	3
50	1	2	3
②小計			

※ここには何も書かないでください。

点	A・B
50 - ①+②	
第1点検者	第2点検者

平成27年度 萩ものしり博士検定(解答用紙)

がっこうめい 学校名	がくねん くみ 学年・組	なまえ 名前
小学校	年 組	

子ども検定

せいがい おも ばんごう
正解と思う番号1つにマルをつけてください。

もんだいばんごう 問題番号	かいとうばんごう 解答番号		
1	①	2	3
2	1	②	3
3	1	2	③
4	1	②	3
5	1	②	3
6	1	2	③
7	1	2	③
8	①	2	3
9	1	②	3
10	1	2	③
11	1	2	③
12	1	②	3
13	1	②	3
14	①	2	3
15	①	2	3
16	1	②	3
17	1	2	③
18	1	②	3
19	1	2	③
20	1	2	③
21	①	2	3
22	①	2	3
23	①	2	3
24	1	2	③
25	①	2	3
①小計			

もんだいばんごう 問題番号	かいとうばんごう 解答番号		
26	1	②	3
27	1	2	③
28	1	②	3
29	1	②	3
30	①	2	3
31	1	2	③
32	1	②	3
33	①	2	3
34	①	2	3
35	①	2	3
36	①	2	3
37	1	2	③
38	①	2	3
39	1	2	③
40	①	2	3
41	1	②	3
42	1	2	③
43	1	②	3
44	①	2	3
45	1	2	③
46	1	②	3
47	1	②	3
48	1	②	3
49	1	2	③
50	①	2	3
②小計			

※ここには何も書かないでください。

点	A・B
50 - ①+②	
第1点検者	第2点検者